



2025.8

2025.5

2025.4

2025.3

2025.2

2025.1

2024.12

2024.11

2024.10

2024.9

QUANPIN XUANKAO FUXI FANG'AN

全品
选考

历史

复习方案

主编：肖德好

沈阳出版发行集团
沈阳出版社

作业手册

目录 CONTENTS

第 1 讲	中华文明的起源形成——石器、青铜时代(远古至夏商周)	396
第 2 讲	中华文明的转型——铁器时代(春秋战国)	398
第 3 讲	统一多民族封建国家的建立——秦朝	400
第 4 讲	统一多民族封建国家的巩固——两汉	402
第 5 讲	统一多民族封建国家的曲折——三国两晋南北朝	404
第 6 讲	统一多民族封建国家的发展——隋唐	406
第 7 讲	从民族政权并立到元朝大统一——宋元时期政治	408
第 8 讲	封建文明的进一步发展与繁盛——宋元经济文化	410
第 9 讲	统一多民族国家版图奠定与挑战	412
第 10 讲	封建经济文化的继续发展与变化	414
第 11 讲	两次鸦片战争与列强侵略的加剧	416
第 12 讲	国家出路的探索与挽救民族危亡的斗争	418
第 13 讲	辛亥革命与中华民国创立	420
第 14 讲	北洋军阀统治与社会转折	422
第 15 讲	中国共产党的诞生与新民主主义革命的兴起	424
第 16 讲	中华民族的抗日战争	426
第 17 讲	人民解放战争	428
第 18 讲	中华人民共和国成立和社会主义革命与建设	430
第 19 讲	改革开放与社会主义现代化建设新时期、中国特色社会主义新时代	432
第 20 讲	古代文明的产生与发展	434
第 21 讲	中古时期世界多元面貌	436
第 22 讲	走向整体的世界	438
第 23 讲	欧洲的思想解放运动	440
第 24 讲	资产阶级革命与资本主义制度的确立	442
第 25 讲	工业革命与马克思主义的诞生	444
第 26 讲	资本主义世界殖民体系的形成	446
第 27 讲	亚非拉民族独立运动	448

第 28 讲	第一次世界大战与战后国际秩序·····	450
第 29 讲	十月革命、苏联社会主义实践与亚非拉民族民主运动的高涨·····	452
第 30 讲	第二次世界大战与战后国际秩序的形成·····	454
第 31 讲	冷战与国际格局的演变·····	456
第 32 讲	资本主义国家与社会主义国家的发展变化·····	458
第 33 讲	世界殖民体系的瓦解与新兴国家的发展·····	460
第 34 讲	当代世界发展的特点与主要趋势·····	462
第 35 讲	政治制度·····	464
第 36 讲	官员的选拔与管理·····	466
第 37 讲	法律与教化·····	468
第 38 讲	民族关系与国家关系·····	470
第 39 讲	货币与赋税制度·····	472
第 40 讲	基层治理与社会保障·····	474
第 41 讲	食物生产与社会生活·····	476
第 42 讲	生产工具与劳作方式·····	478
第 43 讲	商业贸易与日常生活·····	480
第 44 讲	村落、城镇与居住环境·····	482
第 45 讲	交通与社会变迁·····	484
第 46 讲	医疗与公共卫生·····	486
第 47 讲	源远流长的中华文化·····	488
第 48 讲	丰富多样的世界文化·····	490
第 49 讲	人口迁徙、文化交融与认同·····	492
第 50 讲	商路、贸易与文化交流·····	494
第 51 讲	战争与文化交锋·····	496
第 52 讲	文化的传承与保护·····	498
第 53 讲	史学入门·····	500
第 54 讲	史料研读·····	502
参考答案	·····	505

高考月历卡

高三



9月

空军、海军
招飞工作启动

10月

各省高考报名办法发布
特殊类型招生信息发布
(多种, 多时间点发布)

11月

高考报名

12月

艺术类统考
保送生报名
港澳高校内地招生

1月

艺术类校考报名

高考季

6月上旬

高考

高校发布招生章程
高招咨询会
军队院校、公费师范生、
优师计划、免费医学生(部分省份)
招生章程发布

5月

强基计划招生启动
高校专项计划报名

4月

强基计划招生启动
高考体检
综合评价报名
各省高招规定公布

3月

艺术类专业校考
特殊类招生简章发布

2月

高考季

6月中下旬

成绩查询、批次线公布

强基计划、高校专项计划、综合评价校测
军检面试
部分省(市)提前批填报、录取

7月

部分省(市)提前批
填报、录取
普通本科批填报、录取

8月

普通专科批填报、录取

9月

步入大学殿堂

温馨提示

具体时间以本省考试院发布为准。

人生就像一场盛大的马拉松，刚出发时，摩肩接踵，人山人海。
那时也许你无法领先，也不够出众，但只要**不放弃**，终有一天，**你会追赶而上并成功撞线!**

助力考生 全品志愿圆梦核

第1讲 中华文明的起源形成——石器、青铜时代（远古至夏商周）

一、选择题

1. [2024·福建三明模拟] 有学者在研究中华文明起源时,注意到中国独特的地理环境:东部地区的河谷平原适合发展农业;长江、黄河总流域面积大,两河间具有广阔的发展空间、多样化的气候和生态环境;两河的中下游没有不可逾越的地理障碍。这些特征可以共同用来解释中华文明 ()

- A. “满天星斗”的特征
- B. “多元一体”的特征
- C. “连绵不断”的特征
- D. “农业文明”的特征

2. 龙山文化初期,陶寺早期聚落兴起,最重要的发现是一处四万平方米以上的大型墓地。墓地以宗族为单位排列布局,其中包含高等级家族的大墓,这些大墓同普通小墓共同混在同一墓区。这说明,陶寺早期聚落 ()

- A. 具备了国家的初始形态
- B. 父系氏族社会已趋向瓦解
- C. 血缘族群关系较为牢固
- D. 最高权力继承实行世袭制

3. [2024·湖南岳阳模拟] 新石器时代的大溪文化遗址发现于长江中游地区,其早期墓葬中女性的随葬品以锥器、装饰品居多,男性则多随葬石斧等生产工具。锥器是从事家庭手工劳动的重要器具,而石斧作为重要的砍砸器则主要用于采集、砍伐、切割肉类等大体力劳动。这说明当时 ()

- A. 妇女享有较高的社会地位
- B. 小农经济的雏形已经出现
- C. 社会劳动中已经出现分工
- D. 手工业已成为独立的部门

4. [2024·江苏常州联考] 在辽宁的新石器时代遗址中,发现不少房屋的外围都有着院落式的围墙,几乎所有房屋都有多层极厚的屋内地面。一间房子原墙基不动,屋内先后垫积的居住面有六七层甚至更多。可见,当时这些地区 ()

- A. 氏族之间联系趋于紧密
- B. 阶级分化较明显
- C. 具备早期国家初始形态
- D. 私有制已经产生

5. [2024·河北石家庄模拟] 据记载,夏朝大禹曾实行“任土作贡”制度,即开展土地经界勘丈,设置专门负责绘制人文地理图、丈量划分田地的官员,按照九州的水土肥沃贫瘠状况等多方面因素,将土地划分为九个等级,以此登记造册,收取贡赋品。据此可知,“任土作贡” ()

- A. 实际上是井田制的萌芽
- B. 根源于生产力水平的低下

- C. 促进了小农经济的发展
- D. 旨在提升单位面积产量

6. [2024·海南海口模拟] 河南偃师二里头遗址中心区新发现的多条主干道路,揭示出其多网格状都邑布局,形成作坊、宫殿、祭祀等独立的功能分区,居葬合一的布局形态,井然有序、严谨明显的社会结构。这些发现最能说明 ()

- A. 二里头已经建立了王朝国家
- B. 二里头阶级分化明显
- C. 二里头手工业发展初具规模
- D. 二里头城市规划合理

7. 《史记·夏本纪》记载:“自虞、夏时,贡赋备矣。”《孟子·滕文公上》也记载:“夏后氏五十而贡。”这可以用于研究当时 ()

- A. 具有强大的社会组织能力
- B. 承认土地归私人所有
- C. 国家体系和职能已经确立
- D. 出现尖锐的阶级矛盾

8. [2024·安徽合肥联考] 南京博物院收藏的殷墟甲骨文共有3000余片,经古文字专家辨认考证,上面所记载的商王世系与《史记·殷本纪》中的相关记载基本一致。这表明 ()

- A. 出土文物可以用来检验传世文献的可信度
- B. 传世文献在史料价值上远高于出土文物
- C. 对商王世系的研究考古界一直存在着争议
- D. 出土文物能够更全面地揭示历史的真相

9. 《礼记·祭法》记载:山林川谷丘陵,能出云,为风雨,见怪物,皆曰神,有天下者祭百神。这说明殷商时期 ()

- A. 带有浓郁的神权色彩
- B. 以血缘关系为纽带
- C. 商王大宗地位神圣化
- D. 血缘政治趋向淡化

10. [2023·河北石家庄模拟] 早商时期,商朝统治中心位于今河南郑州和偃师一带,其东部影响止于鲁豫皖交界地区。中商时期,商朝的国力达到顶峰:西至陕西西周原、商洛……东至渤海南岸、连云港海岸以及淮河流域的盐城一带。这体现了商代 ()

- A. 势力东扩的显著特征
- B. 受到外敌入侵被迫东迁
- C. 中央集权进一步强化
- D. 区域间的文化交流加快

11. [2024·重庆沙坪坝模拟] 考古工作者曾经多次在周原(周人早期活动的根据地,今陕西西部)作过调查发掘,不仅发现了大型的宫殿基址、贮藏大量青铜器的窖穴,还发现了近三百片刻字的甲骨,有的记载祭祀

商王的情况,有的记载楚、蜀、巢等地名。据此可以了解 ()

- A. 周人早年与商以及其他方国的关系
- B. 西周时期甲骨文和金文的发展情况
- C. 中华文明起源具有的多元一体特征
- D. 贫富分化开始产生和青铜工艺进步

12. 下表是不同时期出土的曾国(湖北随州)铭文。据此可知,曾国 ()

曾公暉编钟	曾侯与编钟	曾伯黍簋
皇且(祖)建于南土,敝(蔽)蔡南门,质(誓)应京社,适于汉东。[南]方无疆,涉政(征)淮夷,至于繁汤(阳)	王遣命南公,营宅纳土,君此淮夷,临有江夏	克狄淮夷,印燮繁汤(阳),金道锡行

- A. 受封南土,镇抚淮夷
- B. 实力增强,冲击礼乐制度
- C. 社会贫富差距扩大
- D. 营宅纳土,传播中原文化

13. [2024·湖南长沙长郡中学模拟]《史记》记载西周开国功臣太公望被封到齐国后,“修政,因其俗,简其礼,通商工之业,便鱼盐之利,而人民多归齐”。据此可知,分封制 ()

- A. 弱化了对地方的控制
- B. 推动了文化交融
- C. 扩大了国家统治范围
- D. 巩固了王室权威

14. 先秦时期“非祭祀无酒肉”,酒主要用于祭祀礼仪活动。在各种祭祀活动中,酒作为请神和敬献的祭品,从祈求性向娱乐性发展,饮酒成为各阶层普遍参与的活动。这一变化 ()

- A. 加剧了社会危机
- B. 助推平民社会的出现
- C. 重建了等级秩序
- D. 源于农业生产的发展

15. 商、周青铜器造型和纹饰都已经相对纯熟,装饰风格鲜明独特,纹饰图案庄严、厚重,还有一种难以琢磨的神秘和惊悚,具有骇异、狞厉、苍劲的美学特征。这体现了 ()

- A. 分封制与宗法制的互为表里
- B. 青铜工艺与等级秩序的发展
- C. 神权思想与王权政治的统一
- D. 冶铸技术与艺术审美的结合

二、非选择题

16. 阅读材料,完成下列要求。

材料一 以环太湖地区为分布中心的良渚文化,影响波及淮河流域地区、华南地区。良渚文化的代表包括高水平的制玉工艺、精美刻画的磨光黑皮陶、通体磨光

石器、精致漆木器。良渚文化遗址中虽并未发现黍、粟等早作农业品种遗存,但发现了大量的炭化米(谷)、颖壳和小穗轴等不同的稻谷存在形态,其中炭化米数量较多。稻米是良渚社会居民的主要食物来源。良渚文化中的墓葬,可分为两类:一类如马桥文化中见到的那些小墓,其中有的无随葬品,有的仅随葬一些日常用品;另一类如张陵山墓葬,往往不与“小墓”为伍,而葬于人工堆筑的土台上,常使用棺、槨,以玉钺、琮、璧这类重器随葬。良渚社会在社会组织、意识形态和经济基础等方面已经具备文明社会特征。

——摘编自郑云飞《良渚文化时期的社会生业形态与稻作农业》等

材料二 从20世纪70年代至80年代末,陆续发现了许多以玉器为主要随葬品的良渚文化大墓,琮、璧等玉礼器以及墓葬等级的差异反映了当时社会的发达程度。2007年发现良渚古城、2015年确认水利系统,这些都将是良渚文化推到了国家文明的高度,2019年,良渚古城遗址被列为世界遗产。如果没有对良渚80多年的考古发掘与研究,无论如何也想象不到,中国在距今约5000年的新石器时代已经存在如此成熟、发达的文明社会。通过再现良渚文明的历史,可以发现它对其他新石器时代文化乃至后世中华文明,均产生了礼制、艺术、文化等各方面的影响,这一过程同时见证了中华文明多元一体的演进历程。

——摘编自刘斌《良渚与中国百年考古——被低估的中国新石器时代》

(1)根据材料一,概括良渚文化的特征。

(2)根据材料一、二并结合所学知识,分析80多年的良渚考古发掘与研究工作的历史意义。

第2讲 中华文明的转型——铁器时代（春秋战国）

一、选择题

1. [2024·北京延庆区一模] 周平王死后,桓王继位,与郑国矛盾激化,刀兵相见,结果王室军队败北,桓王肩头还中了一箭。郑国派人去“慰问”,桓王只好忍气吞声,不了了之。该事件 ()
- A. 表明春秋五霸的政治格局形成
B. 反映了“礼乐征伐自诸侯出”
C. 证明郑国成为此时最强大国家
D. 说明周天子对地方控制力减弱
2. 晋国在崤之战中战胜秦军,俘虏了秦军“三帅”,凯旋以后,晋襄公应嫡母文嬴(秦女)的请求将其释放。晋国大夫先轾得知后怒斥晋襄公听信妇人之言,是亡国之兆。晋襄公随即遣人追捕秦军“三帅”。这反映了 ()
- A. 秦国以联姻干涉晋国内政
B. 当时女性政治地位低下
C. 卿大夫僭越秩序威胁君权
D. 原始民主传统仍有影响
3. 西周时期的社会伦理关系一般适用于同族和亲戚;春秋时期,社会伦理关系不仅适用于宗族和亲戚,在血缘人伦外还增添了异邦、异族的“道路之人”。这一变化反映出春秋时期 ()
- A. 社会人员可自由流动
B. 宗法观念日益淡化
C. 儒家思想影响力扩大
D. 地缘社会逐渐形成
4. [2024·湖南株洲联考] 战国时期,“农本”思想理念已逐渐深入人心,农业生产的这种特殊地位使得相应的金属农具出现革命性的发展,具体来说就是改变了春秋时期在农业生产主要环节金属农具与非金属农具并存的局面,铁制农具逐渐走向了农业生产中的主导地位。材料主要说明了春秋战国时期农具 ()
- A. 停留在原始的刀耕火种阶段
B. 由多种形式并存到铁农具主导
C. 推动了春秋战国经济的发展
D. 是“农本”思想理念下的必然产物
5. [2024·江苏扬州模拟] 齐国管仲变法中,按照地形将人口划分为由中央政府直辖的各级单位,建立了统一的税收体系,还实施了主动型的经济政策,如力图控制市价(平准)、规定度量衡和鼓励发展贸易等。由此可知,齐国 ()
- A. 建立起完备的税收系统
B. 实现对地方的垂直管理
C. 实行工商业的官府垄断
D. 强化集权统治,提升国力
6. [2024·河北衡水模拟] 学者林剑鸣指出:在理论观点上,《吕氏春秋》对先秦的儒、法、道、墨、阴阳五行

各派,采取兼容并包的态度。它“兼儒墨、合名法”,先秦各主要学派的理论,几乎都可以从《吕氏春秋》中找到。由此可知,《吕氏春秋》 ()

- A. 有保存诸子学派学术成果的作用
B. 是各民族间文化相互交融的印证
C. 代表了不同阶层的共同理想追求
D. 体现出思想文化为政治现实服务
7. 关于“历史”的主观性,学界基本都予以承认。葛剑雄在《历史学是什么》中说,历史是后人对已经发生过的事情作出的有选择的、有意识的记录。相传人们今天看到的《春秋》,是孔子根据鲁国史官的记录删减修订而成的,人们今天读到的许多古代“官方历史”其实已经经过多次整理、修订,从记录到修订往往会带上有关人员的主观意志(如下图所示)。据此,作为历史读者,以下较为科学的态度是 ()



- A. 尽量参考离真相发生时间较近的历史记述,越早的记录越可信
B. 可以参考民间著述,由于其不受政治立场的影响,更为可信
C. 今人已经无法弄清历史的真相了,读者应各取所需,自圆其说
D. 历史的真相不一定能还原,可以借助实证方法提供多角度解释
8. 战国时期,荀子主张“德必称位,位必称禄,禄必称用”;墨子主张“以德就列,以官服事,以劳殿赏,量功而分禄”。两者的思想主张 ()
- A. 倾向于重构社会秩序 B. 维护了地主阶级利益
C. 推动中央集权的建立 D. 完善了人才选拔机制
9. [2024·重庆沙坪坝模拟] 《荀子·天论》中提出“天不为之恶寒也辍冬,地不为之恶辽远也辍广”的观点。下列言论与之最接近的是 ()
- A. 务民之义,敬鬼神而远之,可谓知矣
B. 履霜以知坚冰必至,天之道也
C. 道之大原出于天,天不变,道亦不变
D. 宇宙便是吾心,吾心即是宇宙
10. [2024·广东汕头模拟] 《韩非子》记载:“舜逼尧,禹逼舜……人臣弑其君者也。”《史记》则记载:“自黄帝至舜、禹,皆同姓而异其国号,以章明德。”两者记载的不同,说明 ()
- A. 阶级立场决定历史认知
B. 政治主张影响历史解释
C. 法治与德治之争的激烈
D. 时代发展决定历史叙述

11. 《战国策》记载：“仲尼既没之后，田氏取齐，六卿分晋，道德大废，上下失序。至秦孝公，捐礼让而贵战争，弃仁义而用诈谲，苟以取强而已矣。夫篡盗之人，列为侯王；诈谲之国，兴立为强。”上述历史现象形成的背景为 ()

①铁农具与牛耕的使用并推广 ②手工业及商业均有发展 ③分封制与宗法制完全被破坏 ④儒学独尊地位受到冲击

- A. ①② B. ①③
C. ②④ D. ③④

12. 《庄子·天下》说：“《诗》以道志，《书》以道事，《礼》以道行，《乐》以道和，《易》以道阴阳，《春秋》以道名分。其数散于天下而设于中国者，百家之学时或称而道之。”这 ()

- A. 促进了政治统一
B. 维系了“学在官府”的局面
C. 冲击了贵族政治
D. 导致了各诸侯国之间的矛盾

13. [2024·广东惠州模拟] 春秋后期，法家先驱宣扬“信赏必罚，以辅礼制”。到了战国时期，法家强调“去仁爱，专任刑法”。这一变化说明 ()

- A. 德治主张社会影响有限
B. 法治思想成为社会共识
C. 儒法结合符合历史趋势
D. 时代发展影响价值抉择

14. [2024·天津北辰区模拟] 李悝提出“食有劳而禄有功，使有能而赏必行，罚必当”的名言；墨家提出“不党父兄，不偏贵富，不嬖颜色，贤者举而上之”的思想；名家邓析提出“无厚”主张，他说“君有三累……惟亲所信”。这反映出战国时期 ()

- A. 主要思想流派阶级属性相同
B. 思想领域趋同色彩明显加强
C. 时局变动促进思想领域多元化
D. 新兴阶层要求变革现实政治

15. [2024·山东潍坊模拟] 孟子认为“人性之善也，犹水之就下也”，故“亲亲而仁民”；韩非认为“好利恶害，夫人之所有也”，故“治民无常，惟治为法”。他们思考的出发点是 ()

- A. 知识分子的价值标准
B. 重构秩序的人性判断
C. 超越现实的理想追求
D. 治理国家的策略要求

二、非选择题

16. 梁启超在《论中国学术思想变迁之大势》中把春秋末期和战国时期称为中国学术思想的“全盛时代”。他说：“(百家争鸣)非特中华学界之大观，抑亦世界学史之伟迹也。”阅读材料，完成下列要求。

材料一 道家使人精神专一，动合无形，瞻足万物。其为术也，因阴阳之大顺，采儒墨之善，撮名法之要，与时

迁移，应物变化，立俗施事，无所不宜，指约而易操，事少而功多。

——[西汉]司马谈《论六家要旨》

材料二 诸子十家，其可观者九家而已。皆起于王道既微，诸侯力政，时君世主，好恶殊方。是以九家之术，蜂出并作，各引一端，崇其所善，以此驰说，取合诸侯。……今异家者各推所长，穷知究虑，以明其指。虽有蔽短，合其要归，亦六经之支与流裔。

——[东汉]班固《汉书·艺文志·诸子略序》

材料三 原诸子之立说著书，盖皆欲以一己之思想学说以广播于天下者也。两千年来，我国之民族思想、社会文化、学者著述，几无不受诸子之影响，故诸子者，实我先民思想之结晶，即国学本源之所在。

——《〈诸子集成〉刊行旨趣》

(1)根据材料一、二，指出司马谈和班固对诸子认识的出发点有何不同。

(2)根据材料三并结合所学知识，谈谈你对梁启超认识的理解。

第3讲 统一多民族封建国家的建立——秦朝

一、选择题

1. 有学者提出：“秦在水利、交通、机械等技术层次的优越，使秦人在兼并战争中取得优势，并赢得最终胜利。”这种观点意在说明，秦国（ ）

- A. 素有重视农耕文明的传统
- B. 科学技术领先东方六国
- C. 讲求实用，最终完成国家统一
- D. 商鞅变法历史意义非凡

2. “五德终始说”是关于人类社会组织和朝代变迁的一种政治学说。秦始皇采纳该学说，将秦朝作为“水德”以取代周朝的“火德”，并按照“水德”的有关细节设计王朝制度。秦始皇这样做的主要目的是（ ）

- A. 加快国家统一步伐
- B. 强化思想道德控制
- C. 宣扬政权合法神圣
- D. 缓和民族、阶级矛盾

3. 睡虎地秦简《置吏律》规定：任用吏和尉时，若有不经任命就行使职权，或私下谋划就派往就任的，“以律论之”；任免吏、佐和各府属员时，“十二月朔日免除，尽三月而止之，其有死亡及故有阙（缺）者，为补之，毋须时”。这些规定（ ）

- A. 体现了官吏任免程序的规范性
- B. 反映了官僚政治取代贵族政治
- C. 推动了专制主义中央集权制度形成
- D. 防止了官吏选拔过程中的腐败问题

4. [2024·江苏宿迁模拟] 郡县制取代分封制的必然结果就是贵族政治让位于官僚政治。在官僚政治时代，不管是新旧贵族，还是新兴士人阶层，都必须通过任命转化为官僚，才能成为政体的直接参与者。这一变化（ ）

- A. 加强了专制主义中央集权
- B. 标志着选官制度的成熟完善
- C. 进一步强化封建等级秩序
- D. 是国家开疆拓土的主要手段

5. 岳麓书院藏秦简中显示：秦律规定，30户以上的里置典、老各一人；不足30户，与邻近的里共置，如果没有邻近的里，则置典而不置老。里耶秦简中有一则“有27户人家的成里向上级启陵乡请求设置典，却因为已有一典而被驳回”的文书。这两处秦简可以用来研究秦朝（ ）

- A. 法律制度的严苛
- B. 基层组织的结构
- C. 基层自治的状况
- D. 行政效率的提高

6. [2024·河北保定联考] 战国中期以后，在北方秦、魏一带出现了一种新的货币体系——圜钱，形制由圆形圆孔变为圆形方孔，逐渐代替了布币和刀币。秦惠文王时实行“初行钱”，将铸币权统一收归秦王室，并以“两”为单位，圜钱面文均无地名。这反映出（ ）

- A. 当时的秦国经济实力最强
- B. 战国时北方经济高度繁荣

- C. 秦统一符合历史发展趋势
- D. 秦国社会结构发生了变化

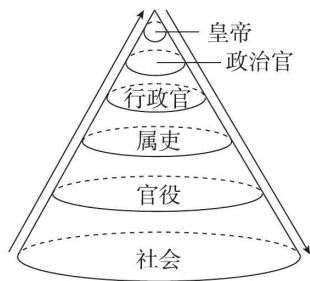
7. [2024·广东揭阳模拟] 《会稽刻石》记载：“（秦始皇）三十有七年，亲巡天下，周览远方。遂登会稽（绍兴），宣省习俗。”其内容包括规范男女婚嫁、强调男尊女卑、希望民众遵守道德、共保太平。其意在（ ）

- A. 维护专制皇权独尊地位
- B. 强化法家的正统地位
- C. 推动南方经济开发
- D. 巩固国家统一与稳定

8. [2023·重庆沙坪坝联考] 据统计，在湖南省里耶镇出土的秦简多为迁陵县官署日常行政管理文书，包括户籍变化、田租赋税、劳役徭役、仓储钱粮、兵甲物资、道路里程、邮驿津渡管理、刑徒管理、祭祀先农以及教育、医药等政令。这反映出秦朝（ ）

- A. 赋税负担沉重
- B. 法律制度严酷
- C. 强化地方管理
- D. 行政效率提高

9. 下图是秦汉王朝的人员结构图。这可以说明当时（ ）



- A. 民众对王朝的认同
 - B. 权力的集中与下放
 - C. 协作制衡的运行机制
 - D. 儒法结合的政治文化
10. 秦朝文献规定：一旦收到官方加急的文书或命令，就立即执行；即便是非加急的，也要在当天完成，不能滞留到第二天。否则，按法律论处。这一规定说明了当时（ ）

- A. 国家法律严苛
- B. 重视提高行政效率
- C. 官僚政治腐败
- D. 人命案件优先办理

11. [2024·河北石家庄二中模拟] 湖北云梦睡虎地秦墓出土的竹简所反映的秦律中，有一条律令规定：隶臣之妾与其子分家后，谎称其子不是隶臣，那么，该女子将受到“完”刑的处罚。这表明秦朝（ ）

- A. 严格维护社会等级
- B. 强化家国同构观念
- C. 注重保护私有财产
- D. 重视规范官员行为

12. [2024·北京顺义区模拟] 公元前209年，陈胜、吴广在大泽乡起义后，队伍很快发展至数万人。不少六国贵族乘机而起，企图“报父兄之怨，而成割地有土之业”，加入陈胜、吴广队伍的张耳、陈余反对陈胜称王，要他拥立六国贵族的后裔。陈胜失败后，楚国贵族景驹和楚怀王之孙熊心先后被立为王。以上现象说明（ ）

- A. 六国势力影响仍然深刻
B. 秦统治者与农民矛盾激化
C. 六国贵族推动土地兼并
D. 秦朝推行中央集权制不力

13. [2024·江西赣州模拟]“春秋战国之前,封国疆域不大,农民为封君服役3日,连同往返最多半月。秦统一后,仍沿袭旧制。地处安徽、河南交界的陈胜、吴广等900名农民屯戍渔阳,连同往返,非数月不能济事,成为暴政!”该材料意在说明秦朝灭亡的原因是

- ()
A. 滥发徭役激化矛盾 B. 忽视了交通建设
C. 严刑酷法导致暴政 D. 国家治理的滞后

14. 公元前206年,刘邦定都栎阳,颁布了一些政令:宣布率一万人或一郡来降者,封万户;开放故秦园囿池苑令民耕种;蜀汉民由于军役负担较重,免除两年租税;关中从军之士兵,免除其家一年负担。上述政令的实施

- ()
A. 表明黄老无为思想受到尊崇
B. 有利于当时社会经济繁荣
C. 稳定了汉朝初期的统治秩序
D. 为楚汉战争胜利积蓄了力量

15. [2024·山东济宁模拟]下表内容是研究秦朝灭亡原因的两则史料。其共同研究视角是

史料1	司马迁:“天下敢有藏《诗》《书》、百家语者,悉诣守、尉杂烧之。有敢偶语《诗》《书》,弃市”
史料2	贾谊:“世非无深虑知化之士也,然所以不敢尽忠拂过者,秦俗多忌讳之禁,忠言未卒于口而身为戮没矣”

- A. 军事衰退 B. 政治残暴
C. 经济落后 D. 文化冲突

二、非选择题

16. 阅读材料并结合所学知识,完成下列要求。

材料一 喜(前262—前217年),秦朝书吏。1975年12月,湖北云梦睡虎地十一号秦墓被发掘,出土1155枚秦简,墓主即喜。

喜墓中竹简的分类与内容简表

分类	内容
《编年纪》	记述公元前306—前217年秦历史,以及喜的生平事迹
《语书》	公元前227年南郡长官整理律令后发给本郡各县、道的文告
《秦律十八种》	详记秦律的内容
《效律》	关于核验官府物资财产要求的法律条文
《秦律杂抄》	是抄者根据需要摘录的秦律条文

分类	内容
《法律答问》	用问答形式解释秦律的条文和术语
《封诊式》	对官员审理案件的要求以及案例的记录
《为吏之道》	供官员学习的关于处世做官规矩的书
《日书》	可占卜吉日的书籍

材料二 喜墓中竹简记录的一些案例

原文	参考译文
甲盗钱以买丝,寄乙,乙受,弗智(知)盗,乙论可(何)毆(也)?毋论	甲偷钱并买了丝,寄存在乙处,乙接受了丝,但不知道甲偷钱的事情,乙应该怎么处置?答:不应论罪
夫盗千钱,妻所匿三百,可(何)以论妻?妻智(知)夫盗而匿之,当以三百论为盗;不智(知)为收	如果丈夫偷钱一千,妻子藏匿三百,对于妻子应该怎样定罪?答:如果妻子知道丈夫偷钱而藏匿,当以偷钱三百论处;如果不知道,就不予追究

——以上材料整理自鲁西奇《喜:一个秦吏和他的世界》等

(1)分别说明两则材料对研究秦朝法律制度的价值和局限。

(2)概括材料中体现的秦朝“法治”的特点。

(3)除上述材料外,研究秦朝历史还可以借助哪些类型的史料?请至少列出两种。

第4讲 统一多民族封建国家的巩固——两汉

(续表)

一、选择题

1. 汉初,汉文帝即位前,汉朝已经在京城长安北侧建起了一个与匈奴的缓冲地带并初步形成了汉朝帝王的祖陵区。至文帝时,他却将自己陵墓选址在长安以东、扼守通往关东主要道路的白鹿原霸上。文帝改变陵墓选址最有可能是由于 ()

- A. 应对王国势力的需要 B. 治国思想发生了变化
C. 与匈奴关系已经缓和 D. 为了凸显个人的功绩

2. 汉律中有“非正与乱妻妾位律”,诸侯王施行严格的嫡长子继承制,只允许嫡子为嗣;如正妻无子,则除国为郡,庶子再多也无用;若试图让庶子继承,即所谓“非正”,免为庶人;如若试图从母亲那里变更庶子地位,则为“乱妻妾位”,不仅免为庶人,而且有时还处以迁刑。这一政策旨在 ()

- A. 彰显中央法律权威 B. 削弱诸侯王的势力
C. 维护嫡长子继承制 D. 遏制外戚政治影响

3. [2024·贵州贵阳一中模拟] 汉初王国职官设定仿照中央,吴楚七国之乱后加以裁削,由中央派相处理行政。汉武帝时期,将王国的郎中令减秩为千石,改太仆(秩两千石)为仆(秩千石);汉成帝时期,进一步裁撤王国内史,由相治民,与郡太守无异。这一做法 ()

- A. 有利于加强君主专制
B. 废除了郡县与分封并行体制
C. 反映皇权与相权矛盾激化
D. 加强了中央对地方的控制

4. [2023·湖南永州一模] 某学者认为,“中国宰相制度,代不相同,然相因而变,有其趋势,亦有其法则。……法则维何?君主近臣,代起执政,品位既高,退居闲曹是也。”能印证这一观点的是 ()

- A. 秦朝设监御史纠察朝廷百官
B. 东汉初年三公权力日益强化
C. 汉武帝时尚书令的作用开始提升
D. 魏晋南北朝时期三省制走向成熟

5. [2024·广东揭阳模拟] 汉武帝时期,大司农桑弘羊认为:富国只有重农的思想是片面的,工商业同农业一样也是财富的源泉;又从使用价值的角度出发,提出治国必须守重,要加强粮食、盐、铁、酒等物资的积累。这一认识 ()

- A. 导致汉代重农抑商政策松动
B. 促使国家加强对经济的干预
C. 改变了国家与民争利的局面
D. 标志着无为而治政策的改变

6. [2024·海南嘉积中学模拟] 下表所示为汉代文献中的有关记述。据此可认定的历史事实是,汉代 ()

《史记·司马相如列传》	文君乃与相如归成都,买田宅,为富人
-------------	-------------------

《汉书·食货志》	亡者取倍称之息,于是有卖田宅、鬻子孙以偿责者矣
《汉书·贡禹传》	臣禹年老贫穷……有田百三十亩,陛下过意征臣,臣卖田百亩以供车马
《汉书·张禹传》	及富贵,多买田至四百顷,皆泾渭溉灌,极膏腴上贾

- A. 豪强地主大肆操弄着政权
B. 土地买卖开始合法化
C. 封建土地私有制得到发展
D. 自耕农经济持续衰退

7. 下表所示为出土的秦汉时期铁农具种类及比例。据此可知,秦汉时期 ()

农具类别	初耕农具	播种农具	中耕农具	收获农具
农具种类	铁犁、铁锄、铁耨	耩、铍	铁铲、铁锄	铁镰
所占比例	61%	7%	22%	10%

- A. 农业经济采用个体生产
B. 铁农具使用范围的扩大
C. 农业具有精耕细作特征
D. 农业生产技术得到提高

8. [2024·北京怀柔区模拟] 下图为1959年新疆尼雅遗址出土的“司禾府印”,它是汉朝时期管理农业官员的印章,这枚印章可以用于 ()

- A. 阐明西汉时中央政府对西域的民族政策
B. 实证汉代中央政府对西域实行有效管辖
C. 研究西汉时西域都护府设置的相关史实
D. 描述西汉时期西域农业发展的大致水平



9. 西汉政府除在张掖地区设置郡县管辖外,另设张掖属国用以安置归附的少数民族部落。西汉末年,窦融成为含张掖郡在内的河西五郡大将军,主持修缮防御设施,实施屯田,鼓励匈奴、卢水胡等民族发展农业生产。当时在张掖地区的大街小巷时常见到西域的胡商与中原的汉商。据此可知 ()

- ①西汉政府已对张掖实行有效治理 ②政府屯田措施促进边疆开发 ③少数民族放弃畜牧业,专事商业 ④张掖成为西域商贸重要地区

A. ①②③ B. ①②④ C. ①③④ D. ②③④

10. [2024·河北保定统考] 公元前106年,汉武帝下诏将全国划分为十三个监察区。每个监察区设置一名刺史,全面负责监察区内的郡级官员及子弟和豪强势

力。到西汉末期, 刺史职权逐渐强化, 开始干预地方军政事务, 其驻地也固定了。到了东汉时期, 刺史已经成为掌控一州的封疆大吏了。这反映出汉代 ()

A. 地方治理日趋强化 B. 中央集权日益加强
C. 刺史制度逐渐异化 D. 监察官员品级提高

11. 下表所示为汉代史书中有关朝廷处理侯王借贷问题的部分记载。从中可以看出汉代 ()

记述	出处
汉文帝三年, 河阳侯陈信“坐不偿人责(债)过六月”, 夺侯, 国除	《史记·高祖功臣侯者年表》
汉武帝元鼎元年, 旁光侯刘殷“坐贷子钱不占租(交纳租税), 取息过律, 会赦, 免”	《汉书·王子侯表》
汉成帝建始二年, 陵乡侯刘诉“坐……贷谷息过律免”	

- A. 高利贷已成为严重的社会问题
B. 经济手段是解决侯国问题的主要方式
C. 政府重视规范社会上借贷行为
D. 严厉打击豪强地主势力, 缓解土地兼并

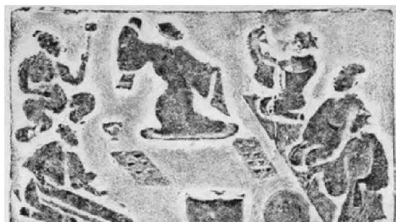
12. 《后汉书·樊宏传》中记载:“(樊)重……世善农稼, 好货殖……其营理产业, 物无所弃……开广田土三百余顷。其所起庐舍, 皆有重堂高阁, 陂渠灌注。又池鱼牧畜, 有求必给。”该材料说明东汉时期 ()

- A. 精耕细作农业不断发展
B. 土地兼并加剧阶级矛盾
C. 地方豪强威胁君主权威
D. 田庄具有自给自足特征

13. [2024·湖北荆门龙泉中学模拟] 东汉和帝时废除察举制的旧规——州郡举荐人数一律为两人, 改为“不满二十万口二岁举孝廉一人, 二十万口岁举孝廉一人, 四十万二人”等; 顺帝时, 由三公府对郡国孝廉者进行分科考试。据此可知, 东汉时期 ()

- A. 选官方式相对客观 B. 阶层流动相对活跃
C. 察举不实现象突出 D. 意图维护制度公平

14. [2024·福建宁德统考] 下图所示是四川成都出土的汉代画像砖(局部), 呈现了家庭宴饮画面。这最适合用于说明汉代 ()



- A. 豪门贵族文娱生活丰富
B. 南方百姓家给人足
C. 儒家礼制遭到严重漠视
D. 市民阶层文化兴盛

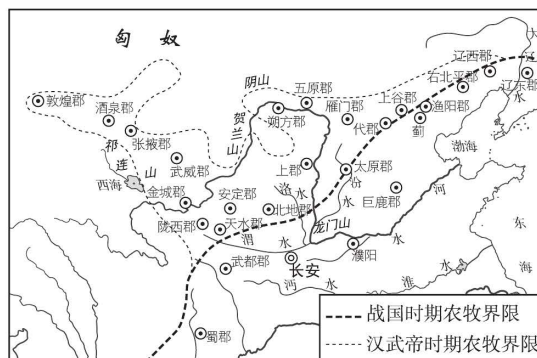
15. [2024·福建宁德一中模拟] 东汉班固在《汉书·司马迁传》中说, 司马迁“网罗天下放失旧闻, 王迹所兴, 原始察终, 见盛观衰, 论考之行事, 略三代, 录秦汉, 上记轩辕, 下至于兹”。这表明《史记》的宗旨是 ()

- A. 探索古今历史发展演变的规律
B. 总结“通史入门”的治史方法
C. 恢复已经被遗忘的远古历史
D. 仅仅展示秦代至西汉王朝历史

二、非选择题

16. 下图为战国至秦汉的农牧业分界线。阅读材料, 回答问题。

材料 战国至秦汉的农牧业分界线变迁图



上图的农牧界线在秦汉时期历经变化。秦始皇三十三年(公元前 214 年)派蒙恬逐匈奴, 取得今河套包括鄂尔多斯高原的“河南地”, 在这块一直是游牧民族活动的“草木茂盛, 多禽兽”的森林草原地带, 设置了 44 县, 并修筑长城, “徙适戍以充之”。公元前 211 年, 又迁三万家于北河(今河套乌加河)榆中地区。这两次大规模移民戍边, 将农耕区的北界推进至阴山以南一带。不久, 爆发了秦末农民起义, 秦朝灭亡, 戍边者乘机逃回, 匈奴渡河而南, 与中原王朝以战国以来的故塞为界。至汉武帝时期, 农牧界线又向北移动。

——摘编自邹逸麟《中国历史地理概述》

阅读图文材料, 结合所学, 评析战国至秦汉时期农牧业分界线的变动。

第5讲 统一多民族封建国家的曲折——三国两晋南北朝

一、选择题

1. [2024·福建漳州模拟] 屯田制是一种由政府提供土地,组织农民或士兵耕种,以解决军队给养或收取税粮的制度。三国时期的东吴推行了大规模的屯田,将屯田与水利开发并举,屯田制度与东吴政权相始终。据此可知,东吴的屯田 ()

- A. 促进了江南地区的开发
B. 奠定了国家统一的基础
C. 推动了经济重心的南移
D. 缓和了东吴内部的矛盾

2. [2024·湖南长郡中学模拟] 魏晋南北朝时期,实行遥领和虚封制度。遥领就是在不属于本政权控制的州郡设置刺史、太守,而虚封则是受封的诸侯王只有虚号,其封土则在其他政权控制范围内。如蜀国马超领凉州牧,吴国孙休为琅琊王,凉州与琅琊均位于魏国境内,北魏将南朝的会稽、苍梧、建业、丹阳等郡封其臣为公侯。这一制度 ()

- A. 彰显国家统一的愿望 B. 宣示王朝统治合法性
C. 激励部下进取的斗志 D. 制造对敌对政权的压力

3. 魏国将东汉末年州牧制度固定化,州刺史(州牧)正式成为管辖地方的行政官。并且自魏国开始,州刺史多带将军号,“任重者为使持节都督,轻者为持节都督”。不带将军号的刺史称为“单车刺史”。魏国的这一做法 ()

- A. 加强了中央对地方监察
B. 助长了地方割据的趋势
C. 奠定了三国鼎立的局面
D. 推动了短暂统一的出现

4. [2024·河北衡水模拟] 下表为东汉至魏晋时期的户口数(据当时官府户籍统计所得约数),影响其中数量变化的主要因素是 ()

	时间	户数(户)		口数(人)	
东汉	157年	10 677 960		56 486 856	
魏	263年	663 423	1 466 423	4 432 881	7 672 881
		280 000		940 000	
吴	280年	523 000	2 400 000	2 300 000	16 160 000
西晋					

- A. 社会秩序的变动 B. 户籍制度的调整
C. 中央集权的消长 D. 人口的大量流动

5. 魏晋南北朝时期,世家大族琅琊王氏在书法领域名家辈出,王导、王敦、王旷等皆善书,至王羲之成为集大成者。王羲之七子也多为名家,后世有书名者数十人,最终形成了琅琊王氏书系,在中国书法史上影响深远。出现这种现象的主要原因是 ()

- A. 士族文化垄断式积累 B. 民族文化的交流融合
C. 齐鲁儒家文化的传承 D. 江南地区经济的开发

6. 《世说新语》中记载,桓大司马乘雪欲猎,先过王、刘诸人许。真长见其装束单急,问:“老贼欲持此何作?”桓曰:“我若不为此,卿辈亦那得坐谈?”这反映当时 ()

- A. 世家大族走向没落 B. 门阀士族生活奢靡
C. 品评十分注重仪服 D. 统治集团存在矛盾

7. [2024·辽宁百师联盟联考] 317年,毫无名望的司马睿初到江东建康(今南京),乃是“吴人不附”,一个月后,还是“士庶莫有至者”。王导建议司马睿礼遇吴郡名士顾荣和出身官宦世家的纪瞻,并争取到他们的支持。从此,“百姓归心焉……君臣之礼始定”。这可以说明当时 ()

- A. 士族具有强大的政治影响力
B. 士族成为权贵攀附对象
C. 江南民众纲常伦理观念淡薄
D. 中央集权制度逐渐衰落

8. [2024·江苏百校联考] 东晋政府为了照顾侨户“流寓江左,庶有旋反之期”的心理,没有把西晋永嘉之乱后出现在南方的侨户编入当地土著户籍,“不以黄籍籍之,而以白籍,谓以白纸为籍,以别于江左旧来土著者也”。这一状况导致 ()

- A. 户籍体制的混乱 B. 中央权力的削弱
C. 赋役制度的瓦解 D. 郡县制度的崩溃

9. 南北朝时期,北方人保持家族成员间的密切联系并共享财产,登记户籍时经常会十几户人家都注册在同一个家族之下,而南方的家族则倾向于分财产,所以宅子也都会各自分出来。这反映南方 ()

- A. 门阀士族兴盛 B. 儒学正统地位动摇
C. 政局相对稳定 D. 均田制的广泛推行

10. 魏晋南北朝时期,北方的耕作工具与耕作技术都取得了较大的进步,如发明了依靠畜力牵引的铁齿耙、使用绳索软套、发明短辕的蓐犁以及耕耙耨技术。对此,下列解释最合理的是 ()

- A. 生存压力倒逼技术革新
B. 国家统一趋势的加强
C. 受江南先进技术的启发
D. 良好政治环境的推动

11. [2024·重庆南开中学模拟] 以下为三国两晋南北朝手工业遗存情况简表。据此能得出的合理结论是 ()

遗存类型	主要地域	遗存种类
铸铁业手工业作坊	全国各地均有广泛分布	铁器遗物以犁、铲、锄、镰等农业生产工具数量最多,还有兵器、马器等

(续表)

遗存类型	主要地域	遗存种类
铜器铸造	今山西、河南等地	釜、盘、灯、炉等生活用品,还有铜钱、铜佛像等
瓷器手工业作坊	中原地区	有瓶、壶、碗、罐等
	今江浙地区	质量较高的青瓷器,越窑产品质量最优

- A. 南北经济的均衡发展
- B. 战乱时期经济严重停滞
- C. 江南经济的初步开发
- D. 中原制瓷水平高于南方

12. [2024·福建福州模拟] 在东晋十六国和南北朝时期,少数民族首领石勒、苻坚都曾统一过中国的北方地区,以“中国皇帝”自居,北魏在中国北方建立了稳定的封建王朝,也以“中国”自称,东晋和南朝更是以“中华正统”自居。这一现象反映了 ()

- A. 南北方政权更迭频繁
- B. 各民族文化水平发展相当
- C. 民族交融呈现双向性
- D. 正统观念受到统治者重视

13. [2024·广东部分名校联考] 胡饼(类似于今天的烧饼)是由西域传入中原地区的烤制面食,味道香美且便于携带。魏晋时期,无论是在大都市还是在边远乡村,胡饼都深受民众青睐。据《晋书》记载,王羲之被权臣选为女婿时,就正躺在东床上大嚼胡饼。据此可知,魏晋时期 ()

- A. 民族交融得到加强
- B. 汉人胡化风气盛行
- C. 社会等级日渐弱化
- D. 外来食物占据主导

14. 北魏在均田制的实施过程中,荫附户问题突出。孝文帝采纳大臣李冲实行三长制的建议,效法古制,“五家设一邻长,五邻设一里长,五里设一党长”,三年无过失者则升一等。多数农民拥护新制度,“于是海内安之”。据此推断,三长制的推行 ()

- A. 有利于农民摆脱豪强的控制
- B. 得到北魏各阶层的广泛支持
- C. 加速了北方的民族交融趋势
- D. 推动了鲜卑族封建化的进程

15. 顾恺之的《女史箴图》是根据西晋文学家张华的文学作品创作的,其主要内容是关于女子德行的劝箴。据此可知,该作品 ()

- A. 奠定了其画圣的地位
- B. 体现了儒学的影响
- C. 突出了对形似的追求
- D. 意在展现男女平等

二、非选择题

16. [2024·山西长治模拟] 阅读材料,回答下列问题。

材料一 楚越之地(长江流域及江南一带),地广人稀,饭稻羹鱼,或火耕而水耨,果隋赢蛤,不待贾(商人)而足,地势饶食。……无积聚而多贫。是故江淮以南,无冻饿之人,亦无千金之家。

——《史记·货殖列传》

材料二 江南之为国盛矣……兵车勿用,民不外劳,役宽务简,氓庶(百姓)繁息,至余粮栖亩,户不夜扃,盖东西之极盛也。……自晋氏流迁,迄于太元(年号,376—396年)之世,百许年中,无风尘之警(战乱),区域之内晏如也。……自此以至大明(年号,457—465年)之季,年踰六纪,民户繁育……良畴亦数十万顷……亩值一金……鱼盐杞梓之利,充仞八方,丝绵布帛之饶,覆衣天下。

——摘自《宋书》

材料三 二月丙子,诏曰:“政道未著,俗弊尚深,豪侈兼并,贫弱困窘,存阙衣裳……朕甚伤之。”

——摘自《宋书》

(1)根据材料,分析从汉代到东晋南朝时期江南经济状况出现了什么变化。(不得照抄原文)

(2)据材料并结合所学知识,分析东晋南朝时期江南经济得到开发的原因。

第6讲 统一多民族封建国家的发展——隋唐

一、选择题

1. 大运河连接黄河流域和长江流域,连接了两个文明,使黄河流域、长江流域逐渐成为一体,鸿恩大德,前古未有。那么,隋朝修建大运河所产生的最深远的影响是 ()

- A. 满足隋炀帝游江都的愿望
- B. 加强北部边防
- C. 加强南北经济的交流
- D. 巩固隋朝的统治

2. 从汉末到隋初,中国经历了长期动荡,灾害发生频繁。为此,隋朝统治者大力发展粮食生产和漕运事业,并鼓励商人运粮下乡换货。据此可知,隋朝 ()

- A. 粮食储备多源于江南地区
- B. 政府重视粮食储备与安全
- C. 发展农业促进了社会繁荣
- D. 全国粮食供求关系较平衡

3. [2024·重庆巴蜀中学模拟] 公元581年,隋文帝杨坚亲自参与并制定了《开皇律》,废除多种酷刑,规定民众如果有冤屈,可以逐级上诉直至朝廷,对犯人处置采取审慎态度,而不是草菅人命。这反映出隋朝 ()

- A. 《开皇律》推动了开皇之治
- B. 法律制定满足了百姓利益
- C. 强化了对社会的控制能力
- D. 消除了社会的不稳定因素

4. 唐太宗曾对臣下说:“炀帝之世,内外庶官,务相顺从……及天下大乱,家国两亡,虽其间万一有得免者,亦为时论所贬,终古不磨。”据此可知,唐太宗 ()

- A. 宽减赋役,藏富于民
- B. 鼓励进言,虚怀纳谏
- C. 发展科举,广纳才俊
- D. 增设宰相,集思广益

5. [2024·江苏徐州模拟] 唐高宗有疾不能理政,寒族出身的武则天柄政,“大崇文章之选,破格用人……当时山东、江左人民之中,有虽工于为文,但以不预关中团体之故,致遭屏抑者,亦因此政治变革之际会,得以上升朝列,而西魏、北周、隋朝及唐初将相旧家之政权尊位遂不得不为此新兴阶级所攘夺替代”。武则天的举措 ()

- A. 打击士族,促进了社会流动
- B. 利用科举,推动了社会公平
- C. 破格用人,提高了行政效率
- D. 提升寒族,巩固了皇权统治

6. [2024·湖南衡阳模拟] 《大唐六典》记载,市令管理市场交易之事,“以三贾均市”管理市场物价。三贾均市,就是由市场官员按商品质量优劣,每十天对物价进行调研、评估,确定三等价格作为市场的指导价和官方买卖的物价依据。这一做法意在 ()

- A. 加强对商业活动限制
- B. 保障政府财政收入
- C. 杜绝商家的恶性竞争
- D. 规范市场交易秩序

7. 《新唐书·地理志》记载,唐太宗平定突厥后,“列置州县”,任命少数民族首领为都督府的都督、刺史,都督、刺史“皆得世袭”,并规定这些州县“贡赋版籍,多不上户部”,由都督负责管理。这说明唐朝实行的措施是 ()

- A. 设典客管理民族事务
- B. 羁縻政策
- C. 设宣政院管理西藏
- D. 改土归流

8. 唐代赵憬论及荆楚地区在全国的地位时指出:“天宝以前,四方无虞,第据编户众寡,等衰州望,鄂是以齿于下。后戎狄乱华,寓县沸腾,屯兵阻险,斯称巨防,朝廷寻州陟列,将寄勋贤之重。”这一变化反映了荆楚地区 ()

- A. 区域经济发展跃居全国前列
- B. 经济开发开始得到政府重视
- C. 为经济重心变动创造了条件
- D. 成为财政收入的主要来源地

9. 下表内容是中晚唐河北藩镇之一“邢洺镇”的政治变迁状况。这一状况说明 ()

年份	是否割据	说明
755—774年	是	755年安史之乱爆发,平乱后763年起,为相卫节度使一部
775—820年	否	775年田承嗣盗据相、卫等州,邢、磁二州为朝廷掌握
821—843年	是	821年起刘悟割据
844—881年	否	844年刘稹叛乱被平定
882—907年	是	882年起孟方立重新割据

- A. 安史之乱导致唐朝覆亡
- B. 邢洺镇分裂为多个藩镇
- C. 藩镇割据引发农民起义
- D. 唐朝中央集权遭到破坏

10. [2024·北京海淀区模拟] 唐朝中后期,节度使“多率税商贾,以充军资杂用”,且“以广陵(扬州)当南北大冲,百货所集,多以军储货贩,列置邸肆,名托军用,实私其利焉”。淄青节度使(辖地位于今山东)李师道还在三道十二州内设立铜铁官,“岁取冶赋百万”。这些史实 ()

- A. 可以用来研究藩镇割据的财政基础
- B. 说明藩镇割据的根源是工商业发展
- C. 反映经济重心逐渐转移到南方地区
- D. 揭示唐朝统治由盛转衰的根本原因

11. 唐朝初年,尚书省的地位明显高于中书、门下两省,尚书仆射为群相之首。唐太宗时,削弱尚书仆射的权力,委派亲信主持门下省的工作,并在门下省设立政

事堂,三省长官同堂议事。后来,又将政事堂也迁到了中书省。这些调整 ()

- A. 体现了行政与决策合并 B. 有利于决策的科学民主
C. 反映了三省地位的变化 D. 使宰相的权力名存实亡

12. [2024·山东潍坊模拟] 相对于科举及第者而言,落第者们更贴近下层民众,他们或聚徒讲学,或影响公共事务,成为乡里文化的普及者、基层社会活动的组织者。这表明科举制度 ()

- A. 推动了基层自治 B. 促进了阶层流动
C. 扩大了统治基础 D. 有益于社会教化

13. [2024·湖南岳阳模拟] 两税法实行以前,唐代赋税征收“以丁身为本”,全国各州府税率基本一致。两税法实行以后,其各州府税额“据旧征税数”摊派给当地民户,各州府税率差异较大。据此推知,两税法的实施客观上 ()

- A. 加重了民众的经济负担
B. 缓解了政府的财政困难
C. 加速了社会人口的流动
D. 抑制了商品经济的发展

14. 依据下表信息,可以得出的结论是 ()

朝鲜	科举考试以中国古籍《左传》《礼记》等为主科
	利用汉字字形作音符,创朝鲜词汇
日本	模仿唐代之政制,确定其官制、田制、刑法等
	采用汉字楷书偏旁造“片假名”,取汉字草书偏旁造“平假名”
越南	李圣宗在国都“修文庙,塑孔子、周公及四配像,画七十二贤像,四时享祀”
	国内政治制度完全仿效中国体制,仿佛一个缩小版的中华帝国

- A. 文化生命力影响辐射力 B. 东亚文化具有同源性
C. 东亚一体观念不断增强 D. 文化交流具有单一性

15. 下图为唐代章怀太子(唐高宗之子)墓的壁画《礼宾图》(局部),描绘了唐朝鸿胪寺官员接待罗马、高丽以及东北少数民族使节的情景。该图文信息能体现 ()



- A. 西域风情与中原文化的杂糅
B. 外交场景与艺术审美的结合
C. 开元盛世与民族认同的交汇
D. 雕塑艺术与史料价值的统一

二、非选择题

16. 阅读材料,完成下列要求。

材料一 古代高昌地处吐鲁番盆地,是古时西域交通枢纽。高昌的东南地区大部分是汉族居住的农业区,其西北地区则是我国历史上游牧民族活动的地区。贞观十四年八月,唐朝平定高昌,以其地为西州,州内设置了三郡、五县、二十二城,辖地户约八千、人口约三万七千。唐朝还在该地区采取了修建水利、设置官市、管理交通等一系列措施。到天宝年间,西州地区居民增至一万九千多户,人口增加至约四万九千,货物四至,客商云集。

——据《旧唐书·西戎传》等整理

材料二 近年,吐鲁番出土了大量从东晋到元代的古代文书,引起了学者注意。其中一份民众自报的户籍文书,记载了某家庭的成员、授田等情况,文书后署“贞观十四年九月”。另一份是卜天寿所写的文本残卷,该文书大部分是其抄写的汉代经学大家郑玄注释的《论语》,卷后还附有绝句六首,另抄有《千字文》开头五句。抄本中有题记“(唐)景龙四年三月一日私学生卜天寿(抄)”“西州高昌县宁昌乡厚风里义学生卜天寿年十二”。

——摘编自马克章《西域汉语通行史》等

(1)利用材料一和材料二进行互证得出结论,并说明理由。

(2)结合材料和所学知识,分析唐代在高昌地区采取一系列措施的历史意义。


第7讲 从民族政权并立到元朝大一统——宋元时期政治

一、选择题

1. [2024·湖南衡阳模拟] 宋朝在州设通判,重要州设两名,民户少的州可以不置,但若武官任知州,则必置。通判有自己专属的衙门通判厅,与知州共议政务、同署文书,“有军旅之事,则专任钱粮之责”。据此可知,设置通判的主要目的是 ()
- A. 规范地方行政 B. 防止武人干政
C. 提升军事能力 D. 削弱州权力
2. 下表所示为唐、宋两朝科举取士及由进士入相的人数变化统计情况。据此可知,宋代科举制 ()

时期	登科人数	宰相人数	进士出身的宰相人数
唐朝	6646人	123人	22人
宋朝	43 000人	135人	111人

- A. 扩大了中枢机构的规模
B. 考试录用程序更趋公平
C. 推动了国民素质的提高
D. 推动了文官制度的发展
3. [2024·广东茂名一中模拟] 北宋时,中书门下和枢密院各掌文武二柄,彼此牵制。只有当战事发生的时候,宰相才会兼任枢密院长官,兼具文武大权于一身。进入南宋后,出现了宰相长期兼任枢密院长官的现象。这一变化说明 ()
- A. 皇帝与士大夫共治天下
B. 北宋冗官问题弊端显露
C. 南宋面临国防压力更大
D. 宰相权力反弹威胁皇权
4. 下图为山西绛州大堂墙上镶嵌的“文臣七条”碑。碑刻立于北宋后期的宋徽宗时期,碑文内容为北宋初期宋真宗颁布的廉政戒律“文臣七条”:一曰清心,二曰奉公,三曰修德,四曰责实,五曰明察,六曰劝课,七曰革弊。该碑文内容能够说明宋代 ()



- A. 实行崇文抑武的方针
B. 注重官员的监察考核
C. 门阀士族势力的衰落
D. 市民生活的丰富多彩

5. [2024·北京顺义区模拟] 《宋史》记载:“祖宗(指宋太祖赵匡胤)之时,枢密掌兵籍、虎符,三衙管诸军,率臣主兵柄,各有分守,所以维持军政,万世不易之法。”这一制度的实行意在 ()
- A. 整顿军队,加强地方军事力量
B. 澄清吏治,削弱宰相行政权力
C. 分权设职,防止武将权力膨胀
D. 崇文抑武,提高文官社会地位
6. [2024·湖北天门模拟] 北宋“分天下为十余路,各置转运使……使朝廷之令必行于转运使,转运使之令必行于州,州之令必行于县,县之令必行于吏民,然后上下之叙正,而纪纲立矣”。这一行政管理模式 ()
- A. 呈现权力相互牵制的特色
B. 抬高了文官与士人的地位
C. 助长因循守旧的政治风气
D. 有利于维护中央集权稳定
7. 宋代上奏官员将章奏文书的主要条目、发生时间等罗列在黄纸上,并粘贴于封皮或正文前,供皇帝阅读,此谓“引黄”。“引黄”的出现 ()
- A. 有利于提高行政效率
B. 表明皇权受到一定限制
C. 完善了官僚管理体制
D. 反映文官政治发展完善
8. [2024·云南师大附中模拟] 宋神宗问唐代河北州县设置,王安石曰:“唐时或是藩镇欲张虚名,纵唐州县亦不足问,但计方今利害何如尔。”他主持变法期间,政府对地方行政区划进行了调整,河北西路撤去 19 个县。这说明北宋中央政府 ()
- A. 并未实行重文轻武政策
B. 认为社会伦理纲常失序
C. 治国理念发生剧烈变动
D. 力图改变积贫积弱局面
9. 1069 年,宋神宗任命王安石为参知政事进行变法革新。次年,司马光借给宋神宗讲解《资治通鉴》的机会,特意表彰“萧规曹随”的典故,并宣扬“道者万世无弊”的理念。这表明朝廷 ()
- A. 推崇儒家治国理念
B. 强化权力的制衡
C. 对改革未达成共识
D. 重视前朝的经验
10. 靖康之变以后,大臣宗泽任东京留守,招募遭到战乱冲击而破产的农民组成“义军”,破解了开封之围。此后一年间,宗泽多次上书宋高宗,请其还都开

封,并愿将“百万义军”交付高宗,但高宗屡次以无力供养“义军”为由拒绝宗泽。这反映出宋高宗主要在担忧 ()

- A. “义军”的战斗力存在虚夸的成分
- B. 徽宗、钦宗二帝归来争夺皇位
- C. 宗泽手握重兵威胁皇位
- D. 宋朝兵制的弊病难以解决

11. [2024·福建厦门湖滨中学模拟] 据《辽史》记载,辽上京(今内蒙古巴林左旗南)“南城谓之汉城,南当横街,各有楼对峙,下列井肆”,市容整备,其形制已无异于中原城市。这说明,当时辽朝 ()

- A. 厉行抑商政策
- B. 城市建制遵循儒家礼乐文化
- C. 民族交融深化
- D. 市场管理实行南、北面官制度

12. [2024·江苏盐城模拟] 辽朝建立后,任用汉人参与礼制建构,制定了吉礼、凶礼、军礼、宾礼、嘉礼等。相比于汉唐以来礼乐式微之势,辽礼更具完整性、礼仪性,可谓中原礼乐之重建。由此可知 ()

- A. 辽朝实行南、北面官制度
- B. 儒家文化主流地位确立
- C. 民族文化融合程度加深
- D. 少数民族普遍接受礼乐

13. [2024·江苏南通模拟] 元朝时,在政治上虽有“内北国而外中国,内北人而外南人”的区分,但文化上北人南往,或南人北上,蔚然成风。北方士人往往以江南一游为荣。南方士人大多以“游孔林”“历燕赵”“谒京师”作为人生的重要经历。这表明 ()

- A. 国家统一有利于文化的融合
- B. 文人的尊儒信仰驱动北人南往
- C. 中华文明呈现多元一体特征
- D. 统治政策成为南北交流指向标

14. [2024·安徽亳州模拟] 钱穆先生曾说,蒙古徒“恃其武力之优越”,“而并不重视其文治”,所实行的某些制度“只成为唐宋以降社会日趋平民化、平等化大趋势下的逆流”。可以用来印证该观点的是 ()

- A. “四等人制”的实施
- B. 中书省直辖区的设立
- C. 蒙古军队的征服
- D. 南、北面官制度的实行

15. 忽必烈建立元朝后,在中央设立中书省,任命右丞相、左丞相、平章政事等官员。首席的右丞相是忽必烈的外甥,还掌握着自己独立的军事力量;中书省的其他重要职务由蒙古、畏兀儿、契丹贵族和汉人谋臣担任,他们大多出自忽必烈的怯薛(侍卫)。以上材料说明 ()

- A. 地方军事力量膨胀,削弱中央集权制度
- B. 忽必烈改革遭到蒙古权贵的激烈反抗
- C. 中枢机构的官员主要出身于科举考试
- D. 元朝政治体制兼有中原和蒙古二重性

二、非选择题

16. 阅读材料,回答问题。

材料 宋代本身的统治体制,在中国历朝之内缺乏先例,乃是“叠床架屋”、缺乏有机结构的官僚系统。宋代的文官,凭着“差遣”担任指定的工作,大多数官职都是由带着其他官职的人员出任,而那些官员的本来职务,却是由另外一些被“差遣”的官员处理。此外,大多数职位不只由一位官员担任职务,同时会有别的官员以“同知”“通判”这一类的名称,与本来奉“差遣”的官员一起工作。在各路以及路下的州县,都有直接由中央管辖的单位派驻,还有分别管理财政、司法、教育、军事的各种官员。但是,这几个单位之间,并没有一些协调的地方主管。

——据许倬云《说中国》

根据材料并结合所学知识,对宋代“叠床架屋”现象作出合理的解释。

第8讲 封建文明的进一步发展与繁盛——宋元经济文化

一、选择题

1. 北宋之前,北方以粟、麦为主食,而南方以稻为主食。南宋诗人陆游在绍兴乡居时,经常食用面条、面片汤。陆游能在南方吃上面条是因为 ()

- A. 南北文化交流增多 B. 经济重心南移
C. 精耕细作农业发展 D. 长途贸易发达

2. [2024·广东佛山统考] 北宋时,棉花在两广以及福建南部普遍种植起来,之后向北推广到江西、两浙等南方各省份。南宋时,在淮南、江南东路、两浙路,小麦成为冬季的重要种植作物,稻麦轮种的耕作制度逐渐确立。这说明两宋时期 ()

- A. 南北农业经济交流加强
B. 南稻北麦格局开始被打破
C. 经济重心逐渐完成南移
D. 棉花是南方主要经济作物

3. 北宋时,中国人已懂得烧煤炼钢,大型手工业雇佣数百全职的产业工人,而政府的两处军工业聘用 8000 名工人,华北的钢铁业以 1078 年为例,年产量达 125 万吨,而英国于 1788 年即工业革命之始才不过年产 76 000 吨。这反映出当时 ()

- A. 手工业较农业发达
B. 冶铁业处于领先水平
C. 炼钢技术取得突破
D. 资本主义萌芽出现

4. 宋神宗熙宁年间,苏颂两次使辽,他在诗作中描述以奚人为主、汉人和渤海等多民族共居的燕山山地“田畴高下如棋布,牛马纵横似谷量”。又在诗自注说:“问之皆汉人佃奚土,甚苦输役之重。”材料反映了 ()

- A. 王安石推行募役法的背景
B. 辽朝农牧结合的经济特点
C. 北宋时期土地契约的出现
D. 设置南、北面官制的影响

5. [2024·北京四中模拟] 下表为唐宋时期主要水利工程统计表(单位:项)。它表明 ()

	陕西	河南	山西	浙江	江西	湖北	福建
唐	32	11	32	44	20	4	29
北宋	12	7	25	86	18	4	45
金及同时 期南宋	4	2	14	185	36	14	63

- A. 中央集权得到加强
B. 土地兼并被抑制
C. 灌溉工具广泛使用
D. 经济重心的南移

6. 宋代西湖的舟船“无论四时,常有游玩人赁假,舟中所须器物,一一毕备,但朝出登舟而饮,暮则径归,不劳

余力,惟支费钱耳”,而在东京城内“凡雇觅人力,干当人、酒食、作匠之类,各有行老供雇”。这反映出当时 ()

- A. 市民阶层登上政治舞台
B. 社会服务行业有所发展
C. 商品经济发展水平较高
D. 雇佣劳动现象较为普遍

7. [2024·湖南岳阳模拟] 宋代官民服饰有着严格的等级区别,庶民百姓只许穿白色衣服。后来,允许流外官、举人、庶人穿黑色衣服。在实际生活中,民间服色五彩斑斓,甚至“巧制新妆,竞夸华丽”。上述材料可证明宋代 ()

- A. 社会控制相对松弛
B. 理学思想渗透至基层社会
C. 社会成员身份平等
D. 经济发展瓦解封建等级

8. [2024·广东江门联考] 北宋湖州乌程县浔溪村村民徐三,“至秀州魏塘,为方氏佣耕”。安阳人制飞“尝为人佣耕”。南宋时尚属边疆之地的四川茂州,当地之丁“半市人无月给,半有为夷人佣耕者”。据此可知,宋代 ()

- A. 生产关系发生质变
B. 雇佣关系已经普遍
C. 边疆地区得到开发
D. 社会分工日趋深化

9. [2024·海南嘉积中学模拟] 宋代中期,文人一改前期“耻言兵事”的风尚,“士大夫人人言兵”。但许多文人在大谈兵事时又极力强调自己的儒者身份,否认“兵家”立场。这一现象反映了 ()

- A. 文人尚武风尚提高了兵家的理论化水平
B. 理学思想加速向社会生活各个领域渗透
C. 边疆形势的被动降低了武人的社会地位
D. 国家治理取向与现实需要间的矛盾困境

10. [2024·湖南衡阳模拟] 北宋文人士大夫批判佛、老异端学说,极力倡导儒家“道统”思想,以此增强儒家经世致用之道对人们精神信念的支配力量;他们上书论政,大力倡导社会改革,由此开创了儒学发展的新局面。究其原因,主要是 ()

- A. 受官方哲学流行影响
B. 源于对国家民族的忧虑
C. 西学东渐的文化回应
D. 对异族文化的格外警惕

11. 张载在《正蒙·乾称》中有言:“儒者则因明致诚,因诚致明,故天人合一,致学而可以成圣,得天而未始遗人。”程颐、程颢两兄弟则提出了“天人本无二,不必言合”的观点。这些思想主张 ()

- A. 论证了遵从天理的必然性
B. 凸显了人的主体地位
C. 批判了封建等级制的弊端
D. 体现出理学的方法论

12. 宋代以前为了宣扬功业或宗教追求,画家创作了大量为政治宣传和道德说教服务的涉及神话、宗教题材的绘画。宋代的文人画家逐渐走出传统,将更多目光转向民间生活,注重刻画民众日常活动或精神品质。宋代绘画艺术的创新体现了 ()

- A. 王朝内忧外患加剧
B. 士大夫政治地位提升
C. 理学的影响力扩大
D. 绘画理论的与时俱进

13. [2024·河北衡水模拟] 唐人小说以描写达官贵族和名士贤媛为主,而在宋代,无论话本还是文言小说,普通民众中的小市民、工匠、商贾、农民、医巫、僧道、店员、伙计、村姑、婢女,都能荣膺小说主角。这一变化,反映了宋代 ()

- A. 程朱理学兴起导致民众价值观念的改变
B. 社会阶层流动增强加剧门第观念的淡化
C. 印刷术的兴盛促进了书籍出版业的发展
D. 商品经济发展带来文学受众的变化

14. [2024·河北衡水二中模拟] 宋朝绘画以饱满的写实精神展现了社会百态,较之北宋对大型人物活动场景的过多关注,南宋绘画则更多地把村医、舟船、行旅、牧童、耕织、商贩等凡俗场景运用到绘画创作之中。这一变化反映出 ()

- A. 社会逐渐由兴盛走向衰落
B. 市民阶层的兴起
C. 城乡发展和商品经济繁荣
D. 传统观念的颠覆

15. 战国时,我国就已创造了指示南北方向的“司南”,宋代在此基础上发明了用人工磁化方法造出的指南针。北宋匠人毕昇在唐代雕版印刷日臻成熟的基础上发明了活字印刷术。南宋时对北宋火药配方进行改进,发明了爆炸性的“铁火炮”。这说明,宋代主要科技成就 ()

- A. 依赖实践经验总结
B. 注重继承前人成果
C. 具有广泛世界影响
D. 服务于外贸的需求

二、非选择题

16. [2024·河北沧州模拟] 阅读材料,完成下列要求。

材料 《宋史·舆服志》载:宋初“闾阎之卑,倡优之贱,男子服带犀玉,妇人涂饰金珠,尚多僭侈,未合古制”。真宗时,对于朝中服饰,“不惟士大夫家崇尚不已,市井闾里以华靡相胜”,竞相仿效。哲宗至徽宗时,张耒在

《柯山集拾遗·衣冠篇》中指出,当时胥徒的冠服与知州、县令相差无几,公卿大夫与武官、技术官的衣冠没有太大区别。南宋人梁克家在《淳熙三山志》中记载:以前闽地风俗是“自缙绅而下,士人、富民、胥吏、商贾、皂隶衣服递有等级,不敢略相陵躐(超越等次)”,三十年来却“渐失等威”。对此,朱熹讲“衣服无章,上下混淆”。

——摘编自郭学信《试论宋代世风的时代特征》

(1)根据材料,概括宋人服饰体现的价值取向。

(2)结合中国古代史知识,对材料中某一价值取向进行阐释。